

Rückgeld

Name: _____

Arbeite
20min
daran.

1

Lies die Erklärung gut durch:


- 100 Rappen sind 1 Franken.
- Fange immer mit den Rappen an, wenn du das Rückgeld ausrechnest.

Beispiel:

Es kostet 7 Fr. 45 Rappen.

Du bezahlst mit einer Zehnernote.

Wie viel Geld bekommst du zurück?



Die Rechnung heisst:

$$7 \text{ Fr. } 45 \text{ Rp.} + \underline{\hspace{2cm}} = 10 \text{ Fr.}$$

(oder $10 \text{ Fr.} - 7 \text{ Fr. } 45 \text{ Rp.}$)



Fange bei den Rappen an.

Ergänze auf 100 Rappen (den nächsten Franken).

$$45 \text{ Rp.} + \underline{\hspace{1cm}} \text{ Rp.} = 100 \text{ Rp.}$$

$$45 \text{ Rp.} + \underline{55 \text{ Rp.}} = 100 \text{ Rp.}$$

(oder $100 \text{ Rp.} - 45 \text{ Rp.}$)



Da du jetzt 55 Rp. dazu gezahlt hast, bist du einen Franken weiter, also bei 8 Fr.

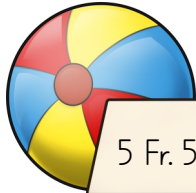
$$8 \text{ Fr.} + \underline{\hspace{1cm}} \text{ Fr.} = 10 \text{ Fr.}$$

$$8 \text{ Fr.} + \underline{2 \text{ Fr.}} = 10 \text{ Fr.}$$

$$2 \text{ Fr.} + 55 \text{ Rp.} = \underline{2 \text{ Fr. } 55 \text{ Rp.}}$$

Das Rückgeld beträgt 2 Fr. 55 Rp.

Du kaufst ein und bezahlst mit einer Zehnernote.
Du darfst den Platz brauchen, um dir Notizen zu machen .



5 Fr. 50 Rp.

Ich erhalte zurück: _____




6 Fr. 80 Rp.

Ich erhalte zurück: _____



7 Fr. 25 Rp.

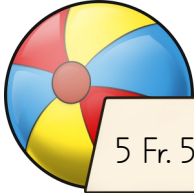
Ich erhalte zurück: _____



9 Fr. 15 Rp.

Ich erhalte zurück: _____

Du kaufst ein und bezahlst mit einer Zehnernote.
Du darfst den Platz brauchen, um dir Notizen zu machen .



5 Fr. 50 Rp.

Ich erhalte zurück: 4 Fr. 50 Rp.



6 Fr. 80 Rp.

Ich erhalte zurück: 3 Fr. 20 Rp.



7 Fr. 25 Rp.

Ich erhalte zurück: 2 Fr. 75 Rp.



9 Fr. 15 Rp.

Ich erhalte zurück: 85 Rp.