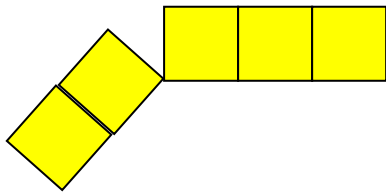


AUF DER BAUSTELLE

1. SETZE DIE 5 ZUSAMMEN.



$$0 + 5 = 5$$

$$1 + 4 = 5$$

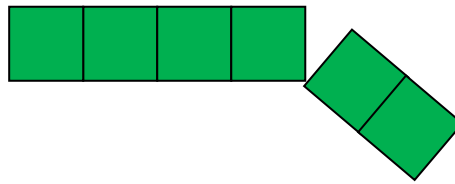
$$2 + _ = 5$$

$$3 + _ = 5$$


$$4 + _ = 5$$

$$5 + _ = 5$$



2. SETZE DIE 6 ZUSAMMEN.



$$0 + _ = 6$$

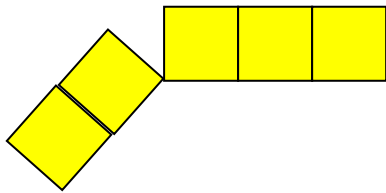


3. BAU DIESE HÄUSER FERTIG. SCHREIBE PASSENDE RECHNUNGEN REIN.



AUF DER BAUSTELLE - LÖSUNG

1. SETZE DIE 5 ZUSAMMEN.



$$0 + 5 = 5$$

$$1 + 4 = 5$$

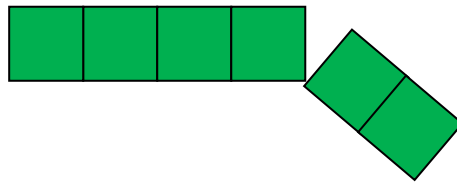
$$2 + 3 = 5$$

$$3 + 2 = 5$$

$$4 + 1 = 5$$

$$5 + 0 = 5$$

2. SETZE DIE 6 ZUSAMMEN.



$$0 + 6 = 6$$

$$\underline{1 + 5 = 6}$$


$$\underline{2 + 4 = 6}$$

$$\underline{3 + 3 = 6}$$

$$\underline{4 + 2 = 6}$$

$$\underline{5 + 1 = 6}$$

$$\underline{6 + 0 = 6}$$



3. BAU DIESE HÄUSER FERTIG. SCHREIBE PASSENDE RECHNUNGEN REIN.

10

$$0 + 10$$

$$1 + 9$$

$$2 + 8$$

$$3 + 7$$

$$4 + 6$$

$$5 + 5$$

$$6 + 4$$

$$7 + 3$$

$$8 + 2$$

$$9 + 1$$

$$10 + 0$$

9

$$0 + 9$$

$$1 + 8$$

$$2 + 7$$

$$3 + 6$$

$$4 + 5$$

$$5 + 4$$

$$6 + 3$$

$$7 + 2$$

$$8 + 1$$

$$9 + 0$$

4

$$0 + 4$$

$$1 + 3$$

$$2 + 2$$

$$3 + 1$$

$$4 + 0$$

