

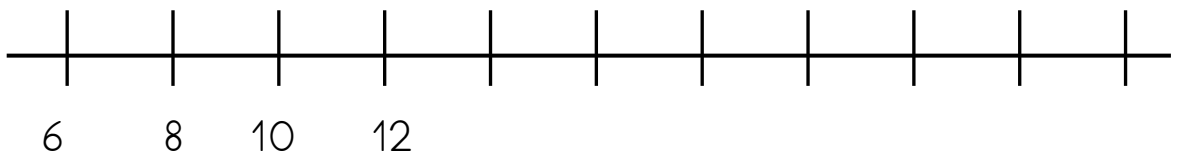
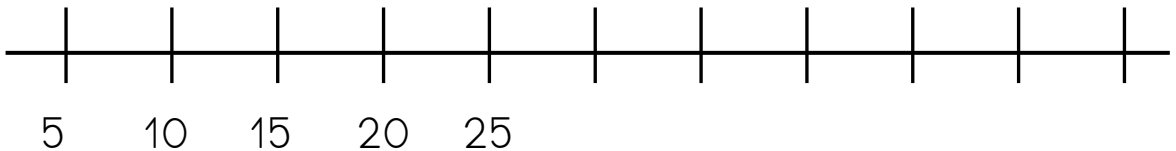
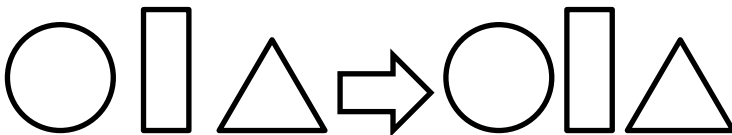

Zahlendetektiv



Finde weitere Zahlen die passen und schreibe sie auf:

70 30 20 10	11 33 99 66	21 51 31 81
------------------------	--------------------------	----------------------

Wie geht es weiter? Zeichne das Muster weiter und schreibe die Zahlenfolge weiter.



Lösung: Zahlendetektiv



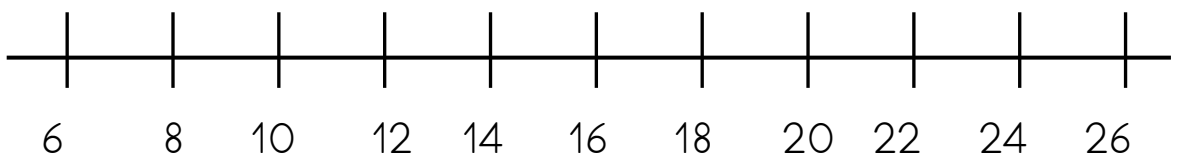
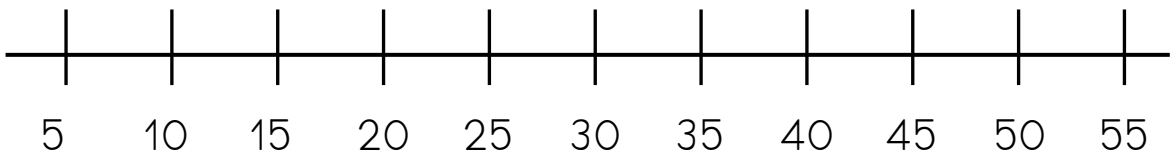
Finde weitere Zahlen die passen und schreibe sie auf:

70	80	30	
			40
20			90
10		50	
			60
Zahnerzahlen			

	44	77	
11		33	99
	55		88
		22	
66			
Schnapszahlen: gleichviele Zehner wie Einer			

	21	71	11	61
		51		41
31		91		
	81			
Ein Einer				

Wie geht es weiter? Zeichne das Muster weiter und schreibe die Zahlenfolge weiter.



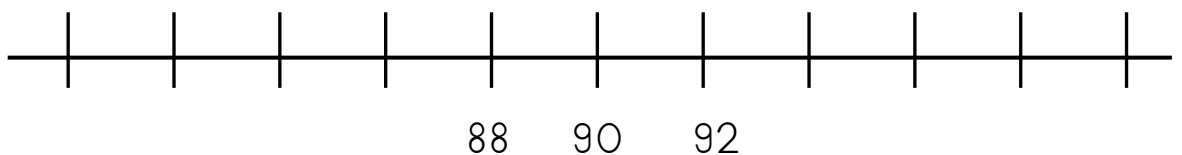
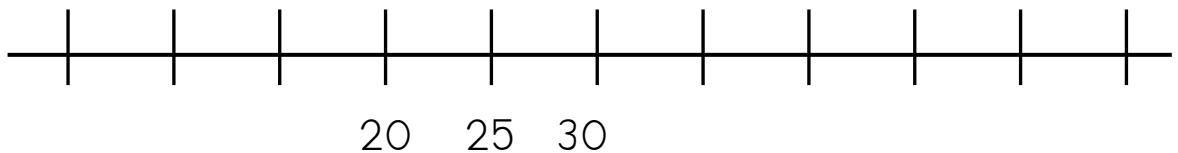
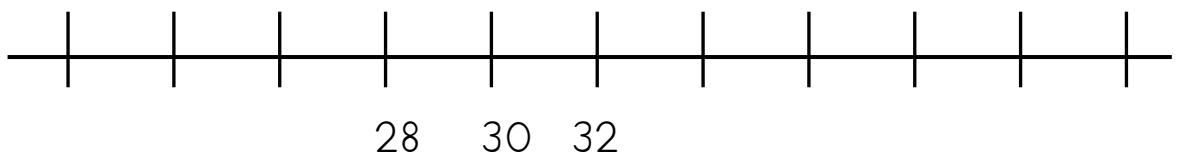
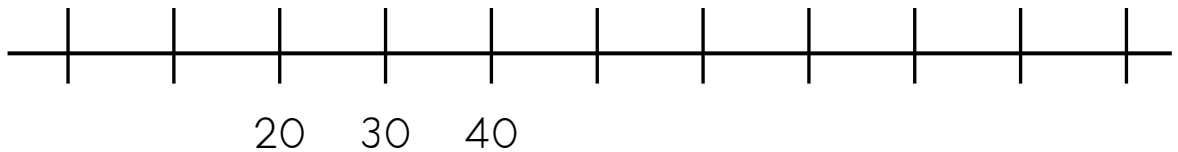
Zahlendetektiv



Finde weitere Zahlen die passen und schreibe sie auf:

70 75 74 78	109 122 130 120	3 1 6 8
------------------------	----------------------------------	--------------------------

Wie geht es weiter? Schreibe die Zahlenfolge weiter.



Lösung: Zahlendetektiv



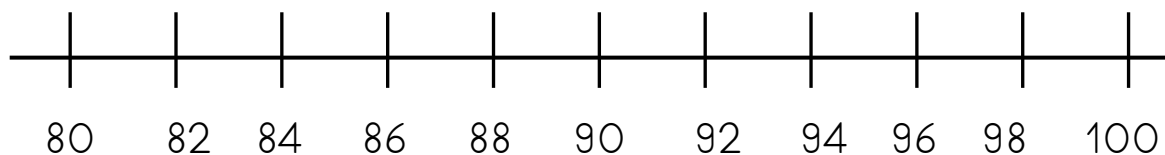
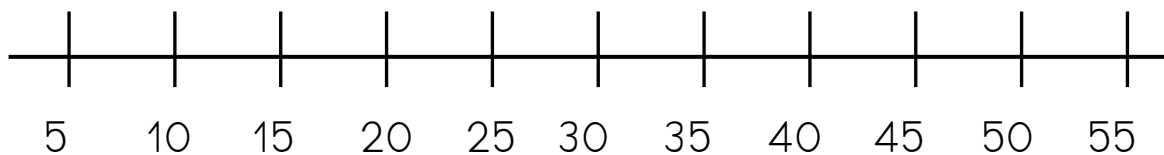
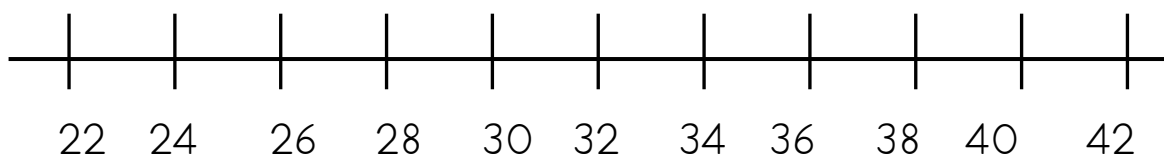
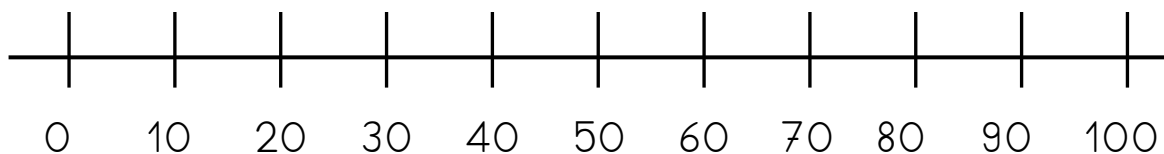
Finde weitere Zahlen die passen und schreibe sie auf:

70	73	75	72
77	74	76	71
78			79
7 Zehner			


109	122	130
120		
Dreistellige Zahlen/ Hunderterzahlen		

3	2	7	9
	1	4	
6	8		
Einer			

Wie geht es weiter? Schreibe die Zahlenfolge weiter.



Zahlendetektiv



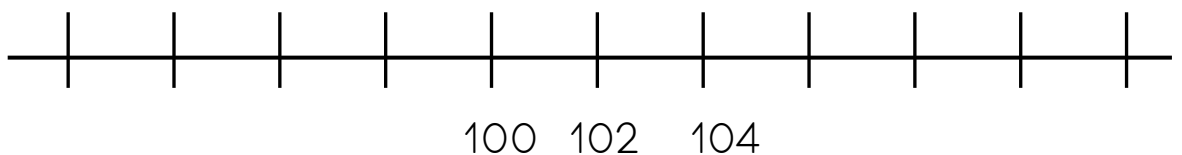
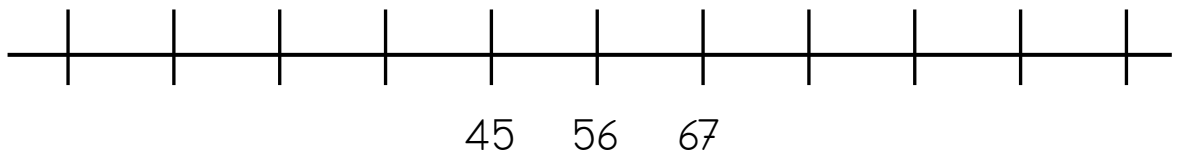
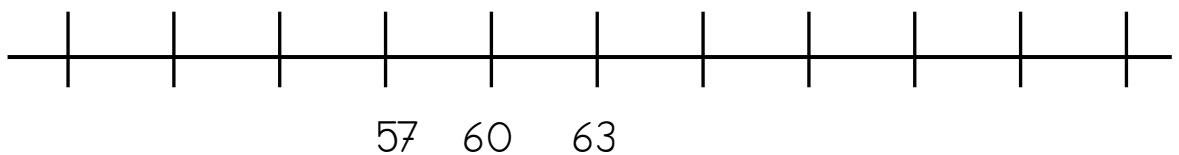
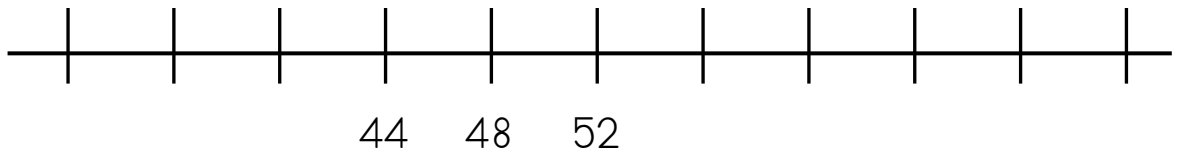
Finde weitere Zahlen die passen und schreibe sie auf:

70	2	32
	20	
4	12	
40		


56	23	89
45		

132	
	31
36	
	938

Wie geht es weiter? Schreibe die Zahlenfolge weiter.



Lösung: Zahlendetektiv



Finde weitere Zahlen die passen und schreibe sie auf:

<p>70 2 32</p> <p> 20</p> <p>4 12</p> <p>40 gerade Zahlen</p>	<p> 67</p> <p>56 89</p> <p> 23</p> <p> 78</p> <p>45 12</p> <p>Einer ist um 1 grösser als Zehner</p>	<p>132</p> <p> 31</p> <p>36 938</p> <p>3 Zehner</p>
---	--	---

Wie geht es weiter? Schreibe die Zahlenfolge weiter.

