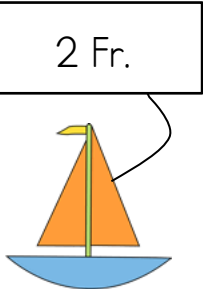






Einkaufen

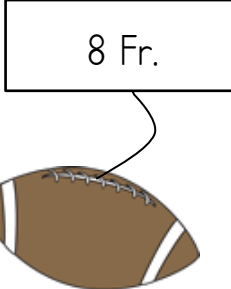
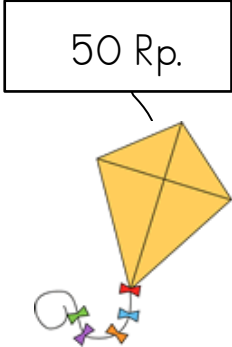

Du zahlst mit einer **Zehnernote**.

 	 <p>Es kostet: _____</p> <p>Ich erhalte zurück: _____</p>
---	--

Du zahlst mit einer **Zehnernote**.



 	 <p>Es kostet: _____</p> <p>Ich erhalte zurück: _____</p>
---	--

Du zahlst mit einer **Zehnernote**.



 	 <p>Es kostet: _____</p> <p>Ich erhalte zurück: _____</p>
---	--

Lösung: Einkaufen

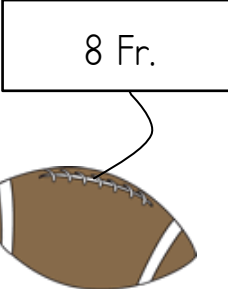
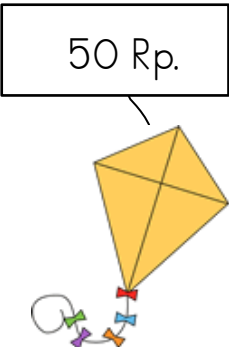
Du zahlst mit einer Zehnernote.

 	<p>10</p> $2 \text{ Fr.} + 3 \text{ Fr.} = 5 \text{ Fr.}$ <p>Es kostet: <u>5 Fr.</u></p> $5 \text{ Fr.} + \underline{\quad} = 10 \text{ Fr.}$ <p>Ich erhalte zurück: <u>5 Fr.</u></p>
---	--

Du zahlst mit einer Zehnernote.



 	<p>10</p> $7 \text{ Fr.} + 2 \text{ Fr.} = 9 \text{ Fr.}$ <p>Es kostet: <u>9 Fr.</u></p> $1 \text{ Fr.} + \underline{\quad} = 10 \text{ Fr.}$ <p>Ich erhalte zurück: <u>1 Fr.</u></p>
---	--

Du zahlst mit einer Zehnernote.


 	<p>10</p> $8 \text{ Fr.} + 50 \text{ Rp.} = 8 \text{ Fr. } 50 \text{ Rp.}$ <p>Es kostet: <u>8 Fr. 50 Rp.</u></p> $50 \text{ Rp.} + \underline{\quad} = 100 \text{ Rp.}$ $9 \text{ Fr.} + \underline{\quad} = 10 \text{ Fr.}$ <p>Ich erhalte zurück: <u>1 Fr. 50 Rp.</u></p>
---	--

Einkaufen

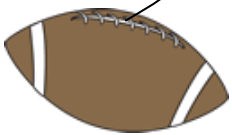

Du zahlst mit einer **Zehnernote**.

<p>2 Fr. 50 Rp.</p>  <p>3 Fr. 20 Rp.</p> 	<p>10</p> <p>Es kostet: _____</p> <p>Ich erhalte zurück: _____</p>
---	--

Du zahlst mit einer **Zehnernote**.



<p>7 Fr. 10 Rp.</p>  <p>2 Fr. 25 Rp.</p> 	<p>10</p> <p>Es kostet: _____</p> <p>Ich erhalte zurück: _____</p>
---	--

Du zahlst mit einer **Zehnernote**.



<p>8 Fr. 30 Rp.</p>  <p>70 Rp.</p> 	<p>10</p> <p>Es kostet: _____</p> <p>Ich erhalte zurück: _____</p>
---	--

Lösung: Einkaufen

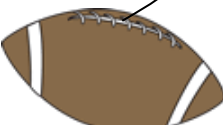
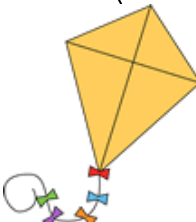
Du zahlst mit einer Zehnernote.

<div style="display: flex; justify-content: space-around; align-items: center;"> <div style="text-align: center;"> <p>2 Fr. 50 Rp.</p>  </div> <div style="text-align: center;"> <p>3 Fr. 20 Rp.</p>  </div> </div>	<div style="float: right; background-color: orange; color: white; padding: 5px; transform: rotate(-15deg); font-weight: bold;">10</div> <p>2 Fr. + 3 Fr. = 5 Fr. 50 Rp. + 20 Rp. = 70 Rp. 5 Fr. + 70 Rp. = 5 Fr. 70 Rp.</p> <p>Es kostet: <u>5 Fr. 70 Rp.</u></p> <p>70 Rp. + _____ = 100 Rp. 6 Fr. + _____ = 10 Fr.</p> <p>Ich erhalte zurück: <u>4 Fr. 30 Rp.</u></p>
---	--

Du zahlst mit einer Zehnernote.

<div style="display: flex; justify-content: space-around; align-items: center;"> <div style="text-align: center;"> <p>7 Fr. 10 Rp.</p>  </div> <div style="text-align: center;"> <p>2 Fr. 25 Rp.</p>  </div> </div>	<div style="float: right; background-color: orange; color: white; padding: 5px; transform: rotate(-15deg); font-weight: bold;">10</div> <p>7 Fr. + 2 Fr. = 9 Fr. 10 Rp. + 25 Rp. = 35 Rp. 9 Fr. + 35 Rp. = 9 Fr. 35 Rp.</p> <p>Es kostet: <u>9 Fr. 35 Rp.</u></p> <p>35 Rp. + _____ = 100 Rp. 10 Fr. + _____ = 10 Fr.</p> <p>Ich erhalte zurück: <u>65 Rp.</u></p>
---	---



Du zahlst mit einer Zehnernote.

<div style="display: flex; justify-content: space-around; align-items: center;"> <div style="text-align: center;"> <p>8 Fr. 30 Rp.</p>  </div> <div style="text-align: center;"> <p>70 Rp.</p>  </div> </div>	<div style="float: right; background-color: orange; color: white; padding: 5px; transform: rotate(-15deg); font-weight: bold;">10</div> <p>30 Rp. + 70 Rp. = 100 Rp. 8 Fr. + 1 Fr. = 9 Fr.</p> <p>Es kostet: <u>9 Fr.</u></p> <p>9 Fr. + _____ = 10 Fr.</p> <p>Ich erhalte zurück: <u>1 Fr.</u></p>
---	--


Einkaufen

Du zahlst mit einer **Zehnernote**.



<p>2 Fr. 90 Rp.</p>  <p>3 Fr. 20 Rp.</p> 	<p>Es kostet: _____</p> <p>Ich erhalte zurück: _____</p>
---	--

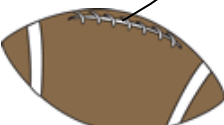

Du zahlst mit einer **Zwanzigernote**.



<p>7 Fr. 45 Rp.</p>  <p>7 Fr. 55 Rp.</p> 	<p>Es kostet: _____</p> <p>Ich erhalte zurück: _____</p>
---	--



Du zahlst mit einer **Fünfundzigsernote**.





<p>18 Fr. 70 Rp.</p>  <p>70 Rp.</p> 	<p>Es kostet: _____</p> <p>Ich erhalte zurück: _____</p>
--	--

Lösung: Einkaufen

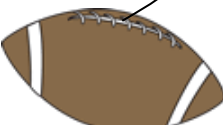
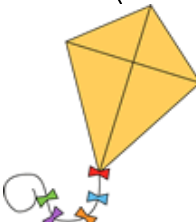
Du zahlst mit einer Zehnernote.

<div style="display: flex; justify-content: space-around; align-items: center;"> <div style="text-align: center;"> <p>2 Fr. 90 Rp.</p>  </div> <div style="text-align: center;"> <p>3 Fr. 20 Rp.</p>  </div> </div>	<div style="float: right; background-color: orange; color: white; padding: 5px; transform: rotate(-15deg); font-weight: bold;">10</div> <p>90 Rp. + 20 Rp. = 110 Rp. = 1 Fr. 10 Rp. 2 Fr. + 3 Fr. = 5 Fr. 5 Fr. + 1 Fr. 10 Rp. = 6 Fr. 10 Rp.</p> <p>Es kostet: 6 Fr. 10 Rp.</p> <p>10 Rp. + _____ = 100 Rp. 7 Fr. + _____ Fr. = 10 Fr.</p> <p>Ich erhalte zurück: 3 Fr. 90 Rp.</p>
---	--

Du zahlst mit einer Zwanzigernote.

<div style="display: flex; justify-content: space-around; align-items: center;"> <div style="text-align: center;"> <p>7 Fr. 45 Rp.</p>  </div> <div style="text-align: center;"> <p>7 Fr. 55 Rp.</p>  </div> </div>	<div style="float: right; background-color: #c0392b; color: white; padding: 5px; transform: rotate(-15deg); font-weight: bold;">20</div> <p>45 Rp. + 55 Rp. = 100 Rp. = 1 Fr. 7 Fr. + 7 Fr. = 14 Fr. 1 Fr. + 14 Fr. = 15 Fr.</p> <p>Es kostet: 15 Fr.</p> <p>15 Fr. + _____ Fr. = 20 Fr.</p> <p>Ich erhalte zurück: 5 Fr.</p>
---	---

Du zahlst mit einer Fünzigernote.

<div style="display: flex; justify-content: space-around; align-items: center;"> <div style="text-align: center;"> <p>18 Fr. 70 Rp.</p>  </div> <div style="text-align: center;"> <p>70 Rp.</p>  </div> </div>	<div style="float: right; background-color: #27ae60; color: white; padding: 5px; transform: rotate(-15deg); font-weight: bold;">50</div> <p>70 Rp. + 70 Rp. = 140 Rp. = 1 Fr. 40 Rp. 18 Fr. + 1 Fr. 40 Rp. = 19 Fr. 40 Rp.</p> <p>Es kostet: 19 Fr. 40 Rp.</p> <p>40 Rp. + _____ = 100 Rp. 20 Fr. + _____ Fr. = 50 Fr.</p> <p>Ich erhalte zurück: 30 Fr. 60 Rp.</p>
--	---